

GRATIS



Teste seus conhecimentos resolvendo esse simulado! o gabarito comentado está no final!




A aprovação na EsPCEx não acontece por acaso — ela é construída todos os dias. Cada questão que você resolve é um passo à frente. Cada erro é uma oportunidade de aprender e evoluir. Este simulado comentado não é só um teste, é um treinamento estratégico para você pensar como a banca e ganhar confiança. Use com foco, corrija com atenção e evolua a cada tentativa.



Você não está apenas estudando — está se preparando para conquistar sua vaga.

SUMÁRIO DE QUESTÕES

Questões	Grau de dificuldade	
1)(EsPCEx-2023) – Conflitos internacionais – Curdos	Difícil	
2)(EsPCEx-2015) – Demografia mundo	Difícil	
3)(EsPCEx-2018) – Agricultura brasileira	Média	
4) (EsPCEx-2019) – Matriz energética	Média	
5)(ESPCEX-2023) – Sociedade e economia da Índia	Difícil	
6) (EsPCEx-2024) – Industria de São Paulo	Difícil	
7) (EsPCEx-2022) – climatologia	Média	
8)EsPCEx-2022) – Geologia	Média	
9) (EsPCEx-2020) – Estreito de Ormuz – Irã	Difícil	
10) (EsPCEx 2017) – Cartografia	Média	



1)(EsPCEx-2023) A criação do Curdistão independente é uma das questões geopolíticas latentes no Oriente Médio. Os curdos que habitam a referida região formam uma população de cerca de 24 milhões de habitantes. (Fonte: MAGNOLI, Demétrio. Geografia para o Ensino Médio. 2. ed. São Paulo: Atual, 2012, p. 635-636).

Sobre a questão curda, pode-se afirmar que:

- a) O governo de Saddam Hussein, consolidado em 1979, descentralizou o poder no Iraque, favorecendo xiitas e curdos.
- b) Os curdos iraquianos conseguiram estabelecer um regime autônomo.
- c) O Irã e a Síria adotam políticas de integração social das correntes separatistas curdas.
- d) As maiores comunidades curdas habitam a Turquia, o Irã, o Iraque e a Síria, vivendo em áreas contínuas, mas separadas por fronteiras políticas.
- e) Na Arábia Saudita, uma corrente radical curda almeja criar um Estado curdo unificado.

2)(EsPCEx-2015) No estudo sobre demografia, são utilizados vários instrumentos, teóricos e práticos, que possibilitam aos organismos internacionais a obtenção de subsídios para elaboração de políticas econômicas e sociais. A curva de crescimento demográfico é um exemplo. A partir desta, é possível obter informações acerca do estágio da transição demográfica em que se encontram determinadas sociedades, isto é, torna-se possível conhecer a dinâmica de suas taxas de natalidade e de mortalidade ao longo do tempo.

A partir da análise da curva de crescimento da população mundial, pode-se afirmar que: **(Difícil)**

I - a humanidade, como um todo, percorre o último estágio da transição demográfica, considerando-se apenas as taxas médias de crescimento da população mundial.

II - as taxas de natalidade apresentam nítido declínio, enquanto as taxas de mortalidade praticamente se estabilizam; contudo, na Europa, as taxas de mortalidade tendem a crescer um pouco.

III – a quase totalidade dos países em desenvolvimento já exibe taxas de crescimento vegetativo iguais às dos países desenvolvidos.

IV – a África ainda apresenta as taxas de natalidade mais elevadas do planeta, enquanto a Ásia já alcançou a média mundial de crescimento vegetativo.

V – o Oriente Médio, assim como a Ásia e a América Latina, apresenta dinâmica de crescimento populacional que avança para o último estágio da transição demográfica.

Assinale a alternativa que apresenta todas as afirmativas corretas.

a) I, III e IV b) II, III e V c) II, IV e V d) I, II e IV e) I, III e V

3) (EsPCEx-2018) “Os produtos da agricultura ocupam posição estratégica na inserção do Brasil na economia globalizada. Atualmente o Brasil é uma grande potência agrícola [...] e figura entre os principais exportadores mundiais de uma série de commodities agrícolas”. MAGNOLI, D.– Geografia para o Ensino Médio. 1ª ed. São Paulo: Atual, 2012, p.317. Sobre as características da agropecuária brasileira, pode-se afirmar que: **(Média)**

I– com a modernização da agricultura na Região Nordeste, as práticas agrícolas tradicionais foram excluídas e substituídas, na Região, pela fruticultura irrigada e pela moderna agricultura da soja, voltadas para exportação.

II– as áreas de pastagens apresentam redução na maior parte do País, mas aumentam consideravelmente nas Regiões Centro-Oeste e Norte, as quais apresentam produção de gado bovino que já supera a produção da Região Sul do País, tradicional área de pecuária bovina.

III– a produção canavieira nordestina, inicialmente restrita à Zona da Mata, já suplanta a produção da Região Centro-Sul, pois, impulsionada pelas boas perspectivas dos biocombustíveis, vem expandindo-se rumo ao oeste baiano e ao sul do Piauí.

IV– na agroindústria da laranja e do fumo no Centro-Sul, pequenos e médios proprietários familiares participam ativamente da cadeia global do agronegócio, fornecendo matérias-primas para as indústrias processadoras.

V– as modernas propriedades rurais passam a integrar cadeias produtivas que envolvem uma rede de estabelecimentos ligados aos setores primário, secundário e terciário da economia, transformando a matéria-prima, animal ou vegetal, em produtos de maior valor agregado.

Assinale a alternativa em que todas as afirmativas estão corretas.

a) I, II e III b) I, II e IV c) I, III e V d) II, IV e V e) III, IV e V

4) (EsPCEEx-2019) O mundo moderno é um voraz consumidor de energia. Atender a essa demanda, pressionada cada vez mais pelas economias emergentes, bem como observar as exigências de um mercado balizado pelo paradigma da eficiência, são desafios incontornáveis. Sobre as características e a participação das diversas fontes de energia, considere as seguintes afirmativas: **(Média)**

I – O drástico aumento do preço do petróleo causado pelas crises internacionais de 1973 e 1979/1980 teve um duplo efeito: viabilizou sua extração em locais de difícil acesso (Sibéria, Alasca e plataformas continentais) e estimulou a pesquisa de fontes alternativas.

II – Impulsionado pelas políticas de redução das emissões de CO₂ adotadas pela China, o gás natural já é, desde 2010, a segunda fonte de energia mais utilizada no mundo.

III – Fontes de energia como o etanol e o biodiesel despontam atualmente como excelentes alternativas, pois apresentam os seguintes benefícios: poluem menos que os combustíveis fósseis, geram vários empregos no campo e dinamizam a economia por conta do seu efeito multiplicador. IV – Isenta de impactos ambientais, a energia eólica vem conquistando cada vez mais espaço na matriz energética de países como China, EUA, Alemanha, Espanha e Índia.

V – Países como França, Ucrânia, Japão e Coreia do Sul continuam a ter nas usinas nucleares uma importante fonte energia, mesmo com problemas relacionados à destinação dos seus rejeitos, à pressão da opinião pública e aos altos custos de construção e manutenção. Assinale a alternativa que apresenta todas as afirmativas corretas, dentre as listadas acima.

a) I, II e III b) I, III e V c) I, IV e V d) II, III e IV e) II, IV e V

5) (ESPCEX-2023) A Índia é um dos mais importantes países emergentes. Com base no seu gigantesco mercado consumidor, apresenta uma das economias que mais crescem no mundo. Segundo o Banco Mundial, o país cresceu em média 7,5% ao ano no período de 2000 a 2016.” (Fonte: SENE, Eustáquio de; MOREIRA, João Carlos. Geografia Geral e do Brasil volume único. 6. ed. São Paulo: Ática, 2018, p. 405).

Sobre a Índia, é correto afirmar que: **(Difícil)**

a) Nova Délhi é um dos mais importantes parques tecnológicos do mundo. Conhecida como o “Vale do Silício” da Índia, abriga diversas universidades e centros de pesquisa e mais de trezentas empresas do setor de informática e TI.

b) Com a modernização em curso, a Índia deixou de ser um país rural e agrícola para se tornar um país urbano e industrial.

c) A Índia é um importante produtor de combustíveis fósseis, como o carvão mineral e o petróleo, sendo autossuficiente na questão energética.

d) O crescimento econômico provoca um aumento da emissão de gases do efeito estufa e a expansão das importações petrolíferas. Além de urgentes investimentos na rede de distribuição elétrica, a Índia enfrenta o desafio de modernizar suas usinas térmicas para reduzir as emissões de gás carbônico.

e) A matriz energética indiana baseia-se no tripé formado por carvão, petróleo e urânio.

6) (EsPCEx-2024) Um moderno e capilarizado sistema rodoviário está intimamente ligado à interiorização da indústria paulista. Analise as assertivas a seguir sobre o assunto em tela: **(Difícil)**

I – A(s) via(s) _____ estrutura(m) o corredor industrial Campinas–Araraquara–Ribeirão Preto. A região de Campinas apresenta um crescimento fortemente concentrado no campo da alta tecnologia.

II – Ao longo do(s) eixo(s) da(s) via(s) _____, na direção da Baixada Santista, os municípios de Santo André, São Bernardo do Campo, São Caetano do Sul e Diadema passaram a abrigar as grandes montadoras automobilísticas.

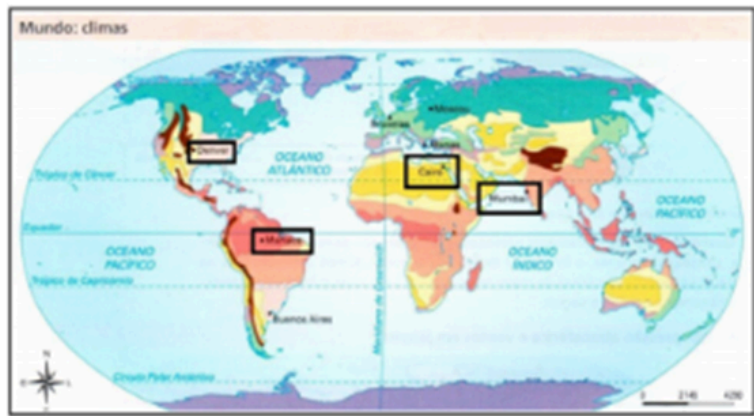
III – A(s) via(s) _____ estrutura(m) os polos industriais do Vale do Paraíba paulista. A expansão inicial baseou-se na metalurgia (...). Mais tarde, se instalaram indústrias bélicas e aeronáuticas, como a Embraer e fábricas de automóveis e caminhões.

IV – A(s) via(s) _____ impulsionou(aram) a industrialização da região de Sorocaba. A aglomeração caracteriza-se pela indústria pesada, com predomínio das fábricas de bens intermediários e de capital.

Assinale a única opção que associa corretamente as lacunas apresentadas nas sentenças acima aos seus respectivos eixos rodoviários.

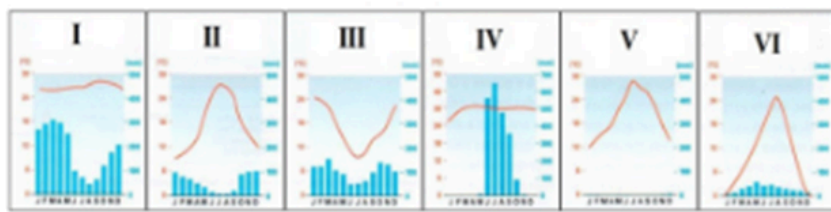
- a) I – Anhanguera e Bandeirantes; II – Dutra e Ayrton Senna; III – Anchieta; e IV – Castelo Branco.
- b) I – Anhanguera e Bandeirantes; II – Anchieta; III – Dutra e Ayrton Senna; e IV – Castelo Branco.
- c) I – Castelo Branco; II – Anchieta; III – Dutra e Ayrton Senna; e IV – Anhanguera e Bandeirantes.
- d) I – Dutra e Ayrton Senna; II – Anhanguera e Bandeirantes; III – Castelo Branco; e IV – Anchieta.
- e) I – Anhanguera e Bandeirantes; II – Anchieta; III – Castelo Branco; e IV – Dutra e Ayrton Senna.

7) (EsPCEEx-2022) Tempo e clima não possuem o mesmo significado e por vezes, são usados de forma errônea. O tempo corresponde ao estado momentâneo da atmosfera, enquanto o clima é a variável do tempo, de pelo menos 30 anos. Cada região possui um clima próprio que é influenciado pelos fatores climáticos que determinarão as características de cada clima. Analise o mapa de tipos climáticos e os climogramas a seguir. **(Difícil)**



Fonte: SENE, Eustáquio de; MOREIRA, João Carlos. *Geografia Geral e do Brasil*. Volume Único. 6ª Edição. São Paulo: Ática, 2018. Páginas 134 e 135 (Adaptado).

As cidades Manaus, Denver, Cairo e Mumbai, demarcadas no mapa, correspondem, respectivamente, aos climogramas



- a) I, VI, IV e V.
- b) II, VI, V, IV.
- c) III, V, VI, IV.
- d) I, III, V, IV.
- e) I, VI, V e IV.

8) EsPCEX-2022) A Terra possui cerca de 4,6 bilhões de anos. Nosso planeta passou e continua passando por diversas transformações. Agentes endógenos e exógenos agiram ao longo das eras geológicas e determinaram as formas da superfície terrestre. As estruturas geológicas emersas da Terra são caracterizadas pela origem e idade das rochas, que podem ser classificadas em escudos cristalinos, dobramentos modernos e bacias sedimentares. Sobre as estruturas geológicas é correto afirmar que: **(Média)**

I – Escudos cristalinos, também denominados de crátons, são encontrados nas áreas de consolidação da crosta terrestre na formação mais recente do tempo geológico. São constituídos de minerais metálicos e não metálicos.

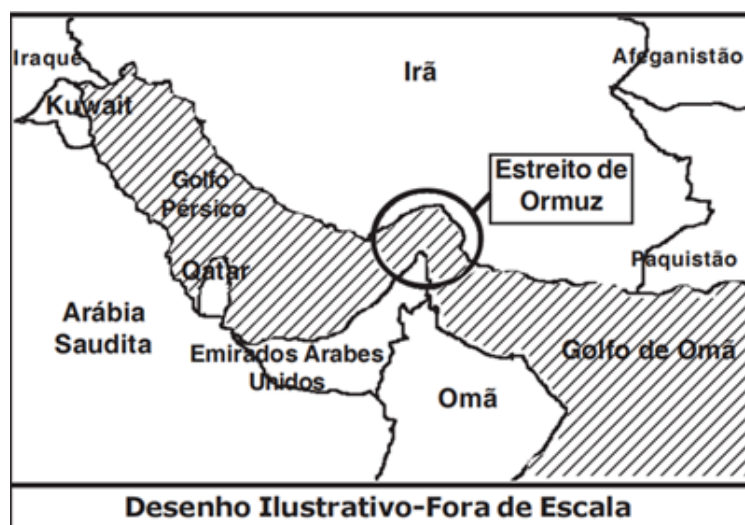
II – Dobramentos modernos apresentam elevadas altitudes e forte instabilidade tectônica, possuem formação relativamente recente no tempo geológico, como por exemplo as Cordilheiras dos Andes e do Himalaia.

III – Bacias sedimentares são áreas de depressão formadas por fragmentos minerais e sedimentos orgânicos. Nestes locais podem ser encontradas jazidas de petróleo e de gás natural.

Das afirmações acima está(ão) correta(s) apenas

a) I. b) I e III. c) III. d) II e III. e) I e II.

9) (EsPCEx-2020) “Em um novo capítulo do acirramento das tensões entre Estados Unidos e Irã, Teerã anunciou nesta quinta-feira que derrubou um drone americano que teria invadido seu território. Washington alega que o equipamento estava em espaço aéreo internacional, e o governo iraniano respondeu levando o caso à ONU”. Fonte: O GLOBO, 20 jun. 2019.



O incidente relatado acima ocorreu no Estreito de Ormuz (vide desenho), no Golfo Pérsico. Sobre as características gerais dos países banhados por esse estratégico golfo, é correto afirmar que: **(Difícil)**

I – Somadas, as reservas existentes nos países banhados pelo Golfo Pérsico perfazem a maior concentração de hidrocarbonetos do mundo.

II – A implantação de um regime democrático, com eleições diretas, foi o maior legado da ocupação dos EUA, que devolveu a estabilidade ao Iraque.

III – Com uma população de aproximadamente 24 milhões, os curdos estão localizados majoritariamente nos territórios ocupados pelo Iraque e pelo Irã, onde contam com um elevado grau de autonomia política.

IV – O Irã não é um país árabe, e a sua população é de maioria xiita. Em 1979, a Revolução Islâmica transformou-o em um dos principais opositores dos Estados Unidos e de Israel.

Assinale a alternativa que apresenta todas as afirmativas corretas.

- a) I e II b) I e III c) II e III d) III e IV e) I e IV

10) (EsPCEx 2017) Em uma competição de corrida de orientação, ou simplesmente orientação – esporte em que o atleta, geralmente com um mapa e uma bússola, precisa se deslocar no terreno, passando por alguns pontos de controle, e chegar ao final em menor tempo –, dentre os pontos que os participantes deverão encontrar, dois deles (Ponto A e Ponto B) possuem as seguintes coordenadas: **(Média)**

PONTOS COORDENADAS	PONTO A	PONTO B
LATITUDE	28°46'00"N	28°50'30"N
LONGITUDE	53°54'30"L	53°53'00"L

Após atingirem o Ponto A, os grupos deverão seguir para o Ponto B e, para tanto seguirão na direção

- a) oeste.
b) leste.
c) sudoeste.
d) noroeste.
e) nordeste.

BRIEFING OPERACIONAL: REGRAS DE ENGAJAMENTO

A aprovação na Academia Militar das Agulhas Negras (AMAN) não é para amadores. A banca examinadora utiliza táticas de camuflagem e emboscadas de dados. A vossa missão: reconhecer o terreno, identificar a armadilha e executar a resposta com precisão cirúrgica.

I.

I. Demografia e Logística

Mapeamento de populações e vetores de suprimento.



II.

II. Padrões Climáticos

Descodificação de assinaturas térmicas e pluviométricas.



III.

III. Geopolítica

Análise de pontos de estrangulamento e zonas de conflito.



IV.

IV. Cartografia Tática

Navegação avançada e evasão de anomalias matemáticas.



TOP SECRET
// CLASSIFIED

1) Gabarito letra D – Difícil



o candidato comum pensa que os curdos ocupam um território uniforme. O especialista sabe que, embora habitem uma região histórica contínua, os 24 milhões de curdos estão politicamente fragmentados e **dispersos entre Turquia, Irã, Iraque e Síria**. O "pulo do gato" aqui é o grau de soberania: enquanto no Iraque eles conquistaram um regime autônomo, no Irã a repressão é absoluta. Se você não distingue autonomia de independência, você já está fora do combate.

Detalhamento:

- a) A ditadura de Saddam Hussein (1979–2003) concentrou o poder. O ditador pertencia a vertente islâmica Sunita, apesar da maioria no país pertencer a vertente xiita.
- c) O Irã e a Síria não apoiam a minoria Curda em seu projeto nacionalista.
- d) Os Curdos embora habitem os países citados, eles não estão em territórios contínuos. Estão dispersos por esses países.

e) Apesar de existirem curdos na Arábia Saudita, a presença deles é muito pequena e pouco significativa em termos demográficos ou políticos. A maioria da população curda está concentrada em países vizinhos como Turquia, Iraque, Síria e Irã.

2) Gabarito letra D – Difícil



Não é decoreba, é análise de estágios. A humanidade caminha para o estágio final, mas a África é o outlier global, sustentando as taxas de natalidade mais elevadas e um Crescimento Vegetativo explosivo. Na outra ponta, a Europa já enfrenta o aumento da mortalidade devido ao envelhecimento severo. Entender que o declínio da natalidade global está atrelado à escolarização feminina e urbanização é o básico; entender as disparidades regionais é o que o Classificado faz.

Detalhamento:

I – Falso. Não é possível afirmar que toda a humanidade está no último estágio, pois existem grandes desigualdades regionais.

Enquanto países desenvolvidos (Europa, Japão) estão na fase final, com natalidade muito baixa e até crescimento negativo, países da África e parte da Ásia ainda estão nas fases intermediárias, com alto crescimento populacional.

II – Correto. Globalmente, a natalidade vem caindo devido à urbanização, escolarização feminina e métodos contraceptivos.

A mortalidade mundial se estabilizou em níveis baixos, mas em países envelhecidos (como os europeus), há aumento recente das taxas de mortalidade por conta do envelhecimento populacional.

III – Falsa. Ainda não. Muitos países em desenvolvimento (principalmente na África Subsaariana) mantêm altas taxas de natalidade, resultando em crescimento vegetativo muito superior ao dos países desenvolvidos.

Apenas parte da América Latina e do Sudeste Asiático se aproxima dos níveis dos países ricos.

IV- Correto. A África lidera o ranking de natalidade (com médias superiores a 30%), enquanto a Ásia reduziu fortemente suas taxas e se aproxima da média global — especialmente por causa de países populosos como China e Índia, que já passaram por forte transição demográfica.

V - Correto. Essas regiões ainda apresentam crescimento vegetativo positivo, mas em desaceleração constante.




Muitos países do Oriente Médio e da América Latina estão entrando nas fases finais da transição, com natalidade em queda e mortalidade estabilizada.



RELATÓRIO CONSOLIDADO: PADRÕES DA BANCA

TOP SECRET

A banca examinadora não é aleatória; opera com algoritmos de eliminação previsíveis.

Central Control Panel		
		
VETOR 1: DISTRAÇÃO GEOGRÁFICA	VETOR 2: CAMUFLAGEM CONCEITUAL	VETOR 3: ANOMALIA DE NOTAÇÃO
<p>Tática: Induzir a generalização de dados globais (ex: Estágio Demográfico).</p> <p>Contra-medida: Isolar anomalias regionais (ex: África vs. Europa).</p>	<p>Tática: Ocultar dados reais sob narrativas de senso comum (ex: Estabilidade no Iraque).</p> <p>Contra-medida: Fundamentação geopolítica baseada em factos crus, não em manchetes.</p>	<p>Tática: Inversão contraintuitiva de regras matemáticas (ex: Coordenadas em 'L').</p> <p>Contra-medida: Aplicação mecânica de vetores cartográficos.</p>

3) Gabarito letra D

A afirmativa II é verdadeira, já que nas últimas décadas as áreas de pastagem realmente diminuíram em algumas partes do País, sobretudo no Sul e no Sudeste, enquanto aumentaram nas regiões Centro-Oeste e Norte, impulsionadas pelo avanço do agronegócio e pela expansão da pecuária bovina, que nessas regiões superou a produção tradicional do Sul.

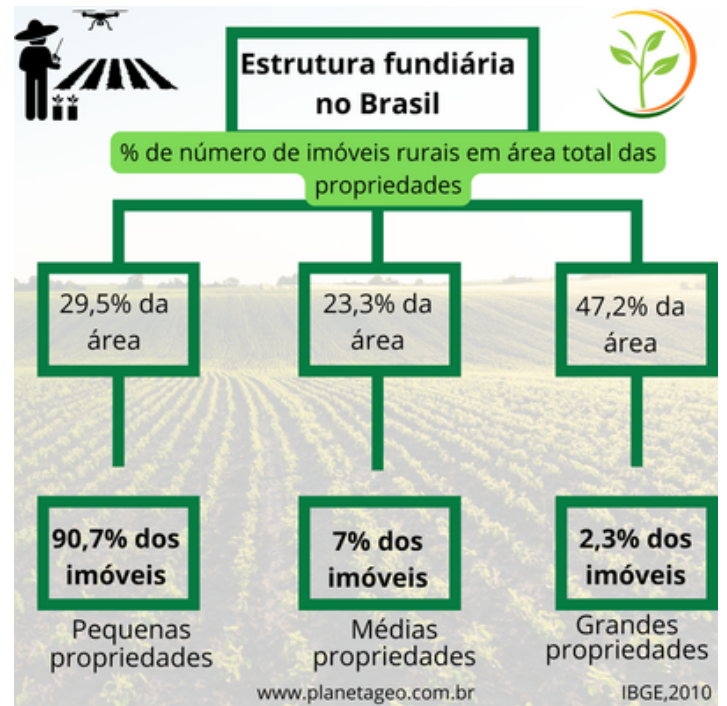
A afirmativa III é falsa, pois, embora a produção de cana-de-açúcar tenha se expandido no Nordeste, a Região Centro-Sul continua sendo a principal produtora do País, concentrando a maior parte da produção nacional, especialmente no estado de São Paulo. O avanço nordestino não supera o centro-sul e ainda enfrenta limitações climáticas e estruturais.

A afirmativa IV é verdadeira, visto que nas cadeias produtivas da laranja (em São Paulo) e do fumo (no Rio Grande do Sul e Paraná) há forte participação de pequenos e médios produtores familiares, que atuam integrados às grandes indústrias processadoras, compondo uma cadeia global do agronegócio.

A afirmativa V é verdadeira, pois as modernas propriedades rurais estão cada vez mais integradas a cadeias produtivas complexas, que conectam o campo

à indústria e aos serviços, agregando valor à produção e articulando os três setores da economia.

DICA QUENTE



4) Gabarito letra B – Fácil

A afirmativa I é verdadeira, pois o aumento expressivo do preço do petróleo nas crises de 1973 e 1979/1980 realmente viabilizou economicamente a exploração em áreas de difícil acesso, como o Alasca, a Sibéria e plataformas marítimas, além de estimular a busca por fontes alternativas de energia, como o etanol e a energia nuclear.

A afirmativa II é falsa, porque, embora a China tenha ampliado o uso do gás natural e adotado políticas de redução das emissões de CO₂, o gás natural não se tornou a segunda fonte de energia mais utilizada do mundo em 2010. Desde então, a segunda posição permanece com o carvão, ficando o gás natural em terceiro lugar na matriz energética mundial.

A afirmativa III é verdadeira, já que o etanol e o biodiesel são considerados fontes renováveis menos poluentes que os combustíveis fósseis, além de gerarem

emprego e renda no campo e movimentarem cadeias produtivas importantes, como as da cana-de-açúcar e da soja.

A afirmativa IV é falsa, pois, embora a energia eólica seja uma fonte limpa e renovável, não está isenta de impactos ambientais — sua instalação pode causar ruído, interferir na fauna local (especialmente aves) e modificar a paisagem.

A afirmativa V é verdadeira, uma vez que França, Ucrânia, Japão e Coreia do Sul continuam a depender fortemente da energia nuclear como parte relevante de sua matriz energética, mesmo enfrentando desafios como os custos elevados, os riscos de acidentes e o problema da destinação dos resíduos radioativos.

5) Gabarito letra D – Difícil

O principal desafio da Índia em relação à matriz energética é equilibrar o crescimento econômico e o aumento da demanda por energia com a necessidade de reduzir a poluição e as emissões de gases de efeito estufa. O país ainda depende fortemente do carvão mineral, que é a principal fonte de energia utilizada e possui uma rede elétrica ultrapassada, necessitando a modernização de sua rede. Esqueça o senso comum de país puramente rural. O crescimento médio de 7,5% ao ano exige uma voracidade energética que a infraestrutura local mal suporta. O ponto crítico para a prova é a dependência de carvão e petróleo, somada a um gargalo logístico: a necessidade desesperada de investimentos na rede de distribuição elétrica e na modernização de usinas térmicas para conter emissões de CO₂. Se você ignora a crise na distribuição, você ignora a questão da prova.

6) Gabarito letra B – Difícil

As rodovias Anhanguera e Bandeirantes ligam polos industriais importantes do interior de São Paulo até a Região Metropolitana da capital, então podemos eliminar as alternativas “c” e “d”. Quando o enunciado fala em direção à Baixada Santista, só podem ser consideradas as rodovias Anchieta ou Imigrantes, o que exclui a opção “a”. Já a Dutra faz a ligação entre a Região Metropolitana de São Paulo e a do Rio de Janeiro.

Observe abaixo os eixos rodoviários e produção industrial articulada a elas:

DEBRIEFING BRAVO: EIXOS DE SUPRIMENTO

Synthesis: A direção e o destino final da infraestrutura revelam imediatamente a identidade da rota.



7) Gabarito letra E – (Difícil)

A Questão 7 derruba quem não tem padrões visuais gravados. Para identificar Manaus, busque a "linha reta" de temperatura alta e pluviosidade constante (baixa amplitude). Para o Cairo, identifique a "linha de base zero" de chuva (deserto). Para Mumbai, o pico pluviométrico deve coincidir com o verão do Hemisfério Norte (julho).

Análise detalhada:

Manaus – clima equatorial – baixa amplitude térmica e elevada temperatura e pluviosidade ao longo do ano; nos gráficos essa descrição corresponde ao gráfico I.

Denver: Clima subtropical, ou seja, estações do ano bem definidas, verão/Julho maiores temperaturas, no inverno em Dezembro temperaturas negativas: gráfico que demonstra essa realidade: IV

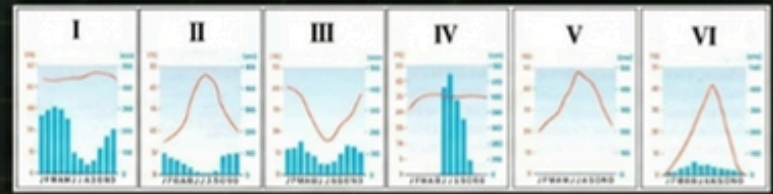
Cairo – Localizado no deserto do Saara, portanto umidade extremamente baixa. Gráfico V.

Mumbai – Localizada em áreas tropicais do hemisfério norte, portanto verão em julho, altas temperaturas e maior pluviosidade. Gráfico V.

MISSÃO DE RECONHECIMENTO CHARLIE [CÓDIGO: CLIMATOLOGIA]

Associação direta entre coordenadas globais e padrões termopluviométricos documentados ao longo de 30 anos.

Nível de Ameaça: **Elevado.**



FOCO TÁTICO: Quem não tem padrões visuais gravados no córtex, cai inevitavelmente no fogo inimigo.

TOP SECRET CLASSIFIED

DEBRIEFING CHARLIE: LEITURA DE ASSINATURAS


ALVO NEUTRALIZADO: GABARITO E

Assinatura 1 (Manaus - Gráfico I)



A Linha Reta: Baixa amplitude térmica. Temperatura alta e precipitação contínua.
Diagnóstico: Clima Equatorial.

Assinatura 2 (Cairo - Gráfico V)



A Linha Zero: Precipitação estática na base do gráfico. Ausência de humidade.
Diagnóstico: Deserto do Saara.

Assinatura 3 (Mumbai - Gráfico VI)



O Pico Tático: Explosão pluviométrica coincidente com o verão do Hemisfério Norte (Julho).
Diagnóstico: Clima de Monções.

FOCO TÁTICO: A capacidade de decodificar assinaturas termopluviométricas é crucial para a identificação de zonas estratégicas. A falha na interpretação resulta em inteligência comprometida.

TOP SECRET CLASSIFIED

8) Gabarito letra D (Média)

I–INCORRETA. Escudos cristalinos ou crátons são áreas muito antigas e estáveis da crosta terrestre, com rochas formadas há bilhões de anos (Pré–Cambriano), ou seja, são das formações mais antigas, não recentes. A parte sobre serem constituídos por minerais metálicos e não metálicos está correta, mas a idade está errada.

II–CORRETA. Dobramentos modernos são montanhas formadas por processos tectônicos recentes em escala geológica, apresentam relevo alto e instabilidade. Andes e Himalaia são exemplos clássicos.

III–CORRETA. Bacias sedimentares são regiões onde sedimentos se acumulam e que, devido a processos de soterramento e decomposição, podem conter petróleo e gás natural.

9) Gabarito letra E (Difícil)

A afirmativa I é verdadeira, pois os países localizados ao redor do Golfo Pérsico — como Arábia Saudita, Irã, Iraque, Kuwait, Emirados Árabes Unidos e Qatar — concentram as maiores reservas de petróleo e gás natural do planeta, configurando a principal região produtora e exportadora de hidrocarbonetos do mundo.

A afirmativa II é falsa, porque a ocupação dos Estados Unidos no Iraque (2003–2011) não trouxe estabilidade política nem consolidou um regime democrático sólido. Apesar de terem ocorrido eleições, o país mergulhou em instabilidade, conflitos sectários e o fortalecimento de grupos extremistas, como o Estado Islâmico.

A afirmativa III é falsa, pois embora os curdos realmente tenham uma população estimada entre 25 e 30 milhões de pessoas, eles vivem dispersos entre vários países — principalmente Turquia, Irã, Iraque e Síria. O grau de autonomia política só é significativo no Curdistão iraquiano, e não no Irã, onde o controle governamental é rígido.

A afirmativa IV é verdadeira, já que o Irã não é um país árabe, mas persa, com maioria xiita na população. Além disso, a Revolução Islâmica de 1979, liderada pelo aiatolá Khomeini, transformou o país em uma república teocrática e marcou o início de sua postura antagonista aos Estados Unidos e a Israel, que persiste até hoje.

DEBRIEFING DELTA: TEATRO DE OPERAÇÕES ORMUZ

ALVO NEUTRALIZADO:
GABARITO E



10) Gabarito letra D (Média)

Anote as coordenadas:

Ponto A: $28^{\circ}46'00''\text{N}$, $53^{\circ}54'30''\text{L}$

Ponto B: $28^{\circ}50'30''\text{N}$, $53^{\circ}53'00''\text{L}$

Compare as latitudes (graus N — norte):

$28^{\circ}50'30''\text{N}$ (B) é maior que $28^{\circ}46'00''\text{N}$ (A) \rightarrow B está mais ao norte que A.

Compare as longitudes. Aqui o indicador “L” significa longitude oeste (na notação portuguesa muitas vezes usa-se “L” para indicar meridiano ocidental).

$53^{\circ}53'00''$ (B) é menor que $53^{\circ}54'30''$ (A). Em longitudes ocidentais, quanto menor o número de graus, mais a leste se encontra o ponto. Logo, B está mais a leste que A.

Conclusão combinada:

B está mais ao norte (latitude maior) e mais a leste (longitude menor em hemisfério ocidental) em relação a A.

O deslocamento de A para B é, portanto, na direção nordeste.

Obs.: cuidado comum — alguns confundem “longitude menor” com “mais a oeste”; é o contrário quando estamos usando meridianos oeste: números maiores = mais a oeste; números menores = mais a leste.

Análise das questões



Curadoria de Questões Estratégicas

Número da Questão	Assunto Crítico	Por que cai na EsPCEEx?
Questão 3	Agropecuária Brasileira	A prova exige que você entenda a integração do pequeno produtor familiar na cadeia global (laranja e fumo), e não apenas o latifúndio exportador.
Questão 4	Matriz Energética	Foco nos efeitos das crises de 1973/1979: a alta do petróleo foi o que viabilizou a extração em áreas de difícil acesso (Sibéria/Alasca) e fontes alternativas.
Questão 6	Infraestrutura Regional	A Banca EsPCEEx cobra a "interiorização da indústria" paulista vinculada aos eixos Anhanguera/Bandeirantes (Campinas) e Dutra (Vale do Paraíba).
Questão 8	Geologia Aplicada	Você deve saber: Escudos Cristalinos são formações antigas (minerais metálicos), enquanto Bacias Sedimentares são os únicos locais de extração de hidrocarbonetos.

ALERT

DIRETRIZ FINAL DE OPERAÇÕES

Estudar superficialmente é assinar a própria sentença de derrota antes de pisar no terreno. A elite não decora respostas; a elite estuda a mecânica do campo de batalha e o modus operandi do inimigo.

O método tático que acabou de experienciar garante não apenas a sobrevivência às emboscadas, mas o domínio total do território.

A MAIORIA MARCHA PARA A EMBOSCADA DE OLHOS ABERTOS. VOCÊ NÃO.

Para acessar mais conteúdos de qualidade e totalmente voltadas para o concurso da EsPCEx adquira sua APOSTILA!

Clique aqui!

R\$ 49,90

Geografia EsPCEEx

APOSTILA DE GEOGRAFIA – EsPCEEx 2025 Resumos Estratégicos + Questões comentadas e Separadas por Tema




🎯 Foco total na EsPCEEx

Todas as questões são da EsPCEEx, organizadas por assuntos

- ✓ Resumos teóricos objetivos, claros e com a linguagem da prova
- ✓ 230 páginas para você dominar Geografia com estratégia

Você não vai perder tempo com conteúdos genéricos ou questões de outras bancas.

Aqui é 100%
EsPCEEx.





Se a sua ideia é “dar uma olhada”, essa apostila não é pra você. Agora, se você quer **chegar competitivo de verdade na EsPCEEx**, presta atenção:

Você não precisa de mais conteúdo.
Você precisa do **conteúdo certo**.

São **230 páginas 100% direcionadas à banca da EsPCEEx** — sem enrolação, sem teoria inútil.

- ✓ Mais de 200 questões reais da EsPCEEx, organizadas por tema
- ✓ Todas comentadas com explicações claras e diretas (sem “professor enrolando”)
- ✓ Resumos objetivos com exatamente o que a prova cobra
- ✓ Mapas, esquemas e quadros que fazem você entender — não decorar



Isso aqui não é uma apostila comum.

É um **atalho estratégico** para quem quer parar de estudar “no escuro” e começar a estudar com precisão.

Se você quer chegar preparado de verdade, essa apostila é a decisão mais inteligente que você pode tomar agora.

[CLIQUE AQUI](#)