

## AVALIAÇÃO DE GEOGRAFIA

Nome: \_\_\_\_\_ Nº \_\_\_\_\_ Turma: \_\_\_\_\_

1) O NAFTA – Acordo de Livre Comércio da América do Norte (North American Free Trade Agreement – em inglês) é um acordo econômico e comercial – também chamado bloco econômico – formado por Estados Unidos, Canadá e México. Criado efetivamente em 1º de janeiro de 1994, tem como objetivo o fortalecimento das relações comerciais entre esses países. O bloco sofreu alterações recentes e alguns parâmetros foram reformulados privilegiando as relações comerciais do EUA.



O acordo comercial em questão promove o fortalecimento das relações comerciais entre os membros, ele funciona em modalidades específicas, bem como apresentam vantagens e desvantagens comerciais. Sobre esses aspectos responda as questões abaixo:

a) Em quais modalidades o bloco do Nafta funciona? Explique brevemente cada uma:

*Acordo de Livre comércio. ✓ Promove a redução ou eliminação de tarifas alfandegárias. ✓*

b) Cite três formas no qual o México se beneficia com bloco do Nafta.

*O México se beneficia através do recebimento de investimentos estrangeiros do Canadá e EUA ✓, através da geração de empregos em seu território ✓ e do recebimento de impostos das multinacionais instaladas em seu território ✓.*

c) Sobre as recentes mudanças no tratado comercial, cite e explique 3 alterações importantes.

*✓ Redução das tarifas pagas pelos estadunidenses para importação de laticínios canadenses, aumento das tarifas de importação americana ✓, aumento do valor da hora trabalhada nos EUA ✓.*

2) Você pode não conhecer o termo inuíte, mas provavelmente já ouviu falar dos esquimós. A palavra, usada para se referir aos povos nativos das regiões árticas, é considerada pejorativa por muitos deles, para quem o termo tem cunho racista. No Canadá e na Groenlândia, eles preferem ser chamados de inuítes. Considere as afirmações abaixo, a respeito dos povos inuítes: e assinale V ou F:



(F) Sempre foram tratados de forma privilegiada pelo governo canadense, principalmente no que se refere ao acesso à terra.

*Somente na história recente do Canadá que ocorre o respeito aos direitos aos povos nativos.*

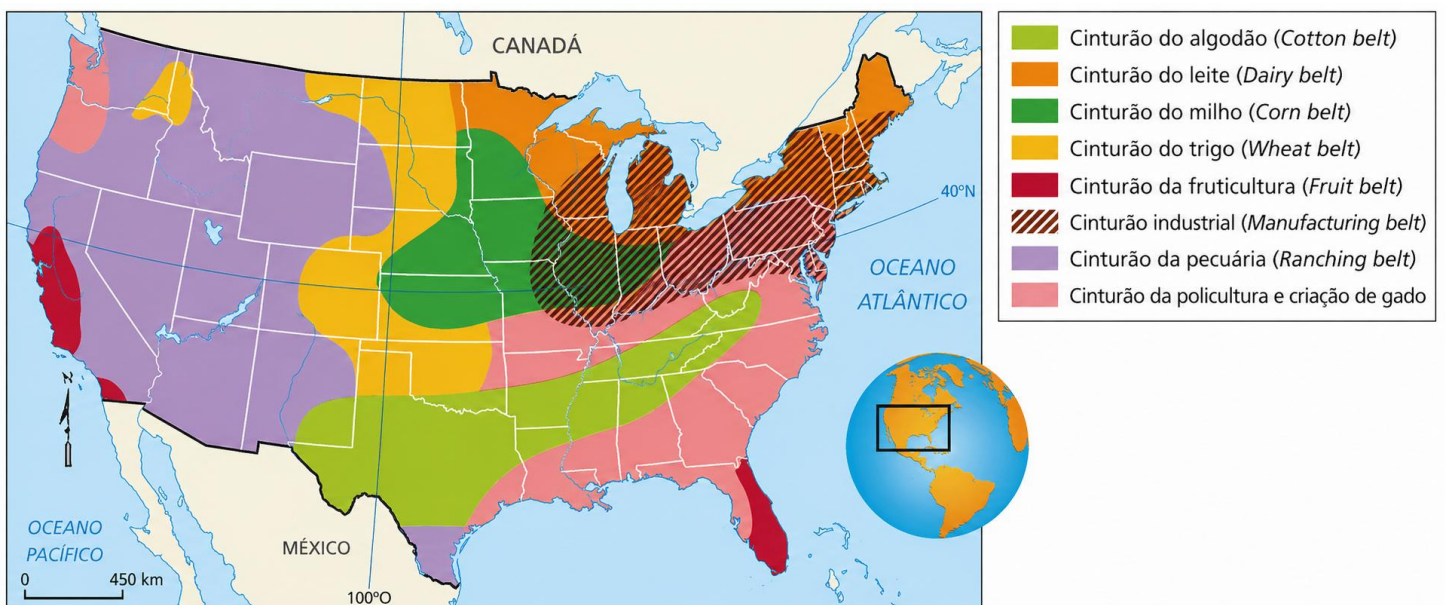
(F) Constantemente, tentam invadir os territórios do norte do país na tentativa de explorar os recursos naturais da região.

*Após acordo entre as partes, os conflitos cessaram.*

(V) Constituíram o território de Nunavut, com administração própria, após serem transferidos de suas terras originais.

3) Escolha a única alternativa certa, assinalando-a com um "X" nos parênteses à esquerda.

a) A agricultura norte americana é uma das maiores do mundo. As fazendas norte americanas produzem grandes quantidades de produtos vegetais, que são quase suficientes para atender à demanda nacional sendo o excesso exportado. Os Estados Unidos são um dos maiores exportadores de produtos agrícolas do mundo.



Fontes: elaborado com base em BARRET-BRIGNON. *Géographie*. Paris: Hatier, 1989. p. 229; GONÇALVES, Carlos Walter Porte; BARBOSA, Jorge Luiz. *Geografia hoje*. Rio de Janeiro: Ao Livro Técnico, 1989. p. 80.

Assinale a alternativa correta sobre a agricultura estadunidense:

Belts agrícolas, que são cinturões agropecuários predominantemente monocultores especializados na produção de gêneros que aproveitem melhor cada espaço do território nacional.

Distribuição agropecuária dos EUA, definida diretamente a partir de políticas governamentais e interesses públicos.

Belts industriais, que se distribuem pelo espaço de acordo com os fatores locacionais, tais como o Cotton Belt, Manufacturing Belt e Sun Belt.

Os belts agrícolas apresentam uma produção de forma extensiva, utilizando grandes espaços e com destaque para a agricultura orgânica.

4) Já se sabe que a população latina está mudando a face dos Estados Unidos, e os números confirmam: a cada 30 segundos nasce no país uma pessoa dessa origem. Os latinos são 14,2% da população, 40,5 milhões de pessoas. De acordo com os dados do censo americano, os latinos representam o segmento mais jovem.

PILAR MARRERO. Adaptado de <http://politicainternacional-jorge.blogspot.com>

O texto faz referência ao aumento da proporção de hispânicos na população estadunidense. Esse aspecto demográfico é uma consequência:

A fecundidade entre os brancos ser menor do que aquela da população de origem negra

A população remanescente de origem hispânica do processo de colonização

A políticas migratórias favoráveis adotadas pelo governo americano ao longo do tempo.

A entrada ilegal de latinos que buscam melhores condições de vida nesse país.

5) O *Manufacturing Belt* no Nordeste americano apresentava, na década de 50, cerca de 69% da produção industrial dos Estados Unidos, baixando essa participação, três décadas depois, para 48%. Milhões de trabalhadores migraram para o Sul e o Oeste que despontavam como áreas mais dinâmicas. O mesmo *Manufacturing Belt*, orgulho dos americanos, ganhava uma nova designação pejorativa – o *Rust Belt* – o “cinturão da ferrugem”.

Assinale a alternativa que melhor se relaciona ao texto:

A terceirização das atividades econômicas no Leste americano tem promovido o intervencionismo do Estado, para garantir a estabilidade do emprego de milhares de americanos.

Os investimentos das grandes transnacionais americanas no exterior esvaziaram a produção industrial e aumentaram o desemprego.

A redução contínua das taxas de natalidade e o crescente aumento da imigração tem provocado sucessivas crises sociais na classe operária-norte americana.

O espaço geoeconômico norte-americano está se reorganizando com o surgimento de novos polos industriais.

6) A região apresentada no mapa abaixo apresenta:



- polos tecnológicos na região conhecida como Vale do Silício, que combina universidades e empresas.
- grandes belts agrícolas que contribuem para o abastecimento alimentar do país.
- presença de indústrias tradicionais de primeira e segunda revolução industrial
- utilização predominante de mão de obra estrangeira nos tecnopolos.

*Comentário: A região passou por forte ocupação de empresas tecnológicas na segunda metade do século XX.*

7) Assinale a alternativa que completa corretamente as lacunas do texto abaixo.

Região da América Anglo-saxônica ocupada por um número de grupos separatistas que lutam pela independência de certas regiões dentro de um país. Em virtude de diferentes processos de colonização protagonizados por \_\_\_\_\_ e \_\_\_\_\_, as tendências separatistas são atuantes no(a) \_\_\_\_\_, onde \_\_\_\_\_, de maioria francesa, reivindica uma posição especial.

- ingleses e franceses - Canadá - Quebec
- espanhóis e bascos - Espanha - o País Basco
- ingleses e espanhóis - Espanha - Gibraltar
- norte-americanos e franceses - Canadá – Quebec

*Comentário: A província canadense do Quebec foi colonizada por franceses e busca pela independência.*

8) Nesta região, favorecida pela presença da floresta, de reservas minerais e do grande potencial hidrelétrico, concentra-se a maior parte da população urbana e da atividade industrial do Canadá. Trata-se:

- da Colúmbia Britânica.
- do Sudeste.
- das Pradarias.
- do Grande Norte.

*Comentário: No Sudeste do Canadá se encontram as principais indústrias e áreas urbanas, a maior parte da população vive nesta região próxima aos Grandes Lagos, área de fronteira com os EUA de grande importância industrial.*

9) O perfil representa um sistema de barragens e eclusas que permite a navegação em superfícies líquidas de diferentes altitudes em relação ao nível do mar.



<https://civilizacaoengenhaira.wordpress.com>.

O perfil corresponde ao

- Estreito de Bering.
- Canal do Panamá.
- Canal da Mancha.
- Canal de Suez.

*Comentário: o sistema de eclusas localizados entre o Oceano Atlântico e o oceano Pacífico é o Canal do Panamá.*

10) Com base nos estudos sobre o assunto e no pequeno trecho da reportagem: "Maquiladores no México: um retrato do capitalismo global", julgue os itens com verdadeiro ou falso. (4 escores)

*As indústrias americanas encontraram um jeito de importar trabalho mexicano sem importar o trabalhador, empregando-o de acordo com os salários e leis trabalhistas vigentes no México*

<http://revistaprincipios.com.br>

**F** São zonas industriais situadas principalmente no norte do México, formadas principalmente por fábricas, comércios e serviços de capital nacional mexicano.

*Comentário: Tratam-se de montadoras que utilizam capital estrangeiro.*

**V** As maquiladoras importam máquinas e matérias-primas livres de impostos e fabricam produtos com baixos custos os quais serão exportados para as indústrias norte-americanas, sob o bloco do NAFTA.

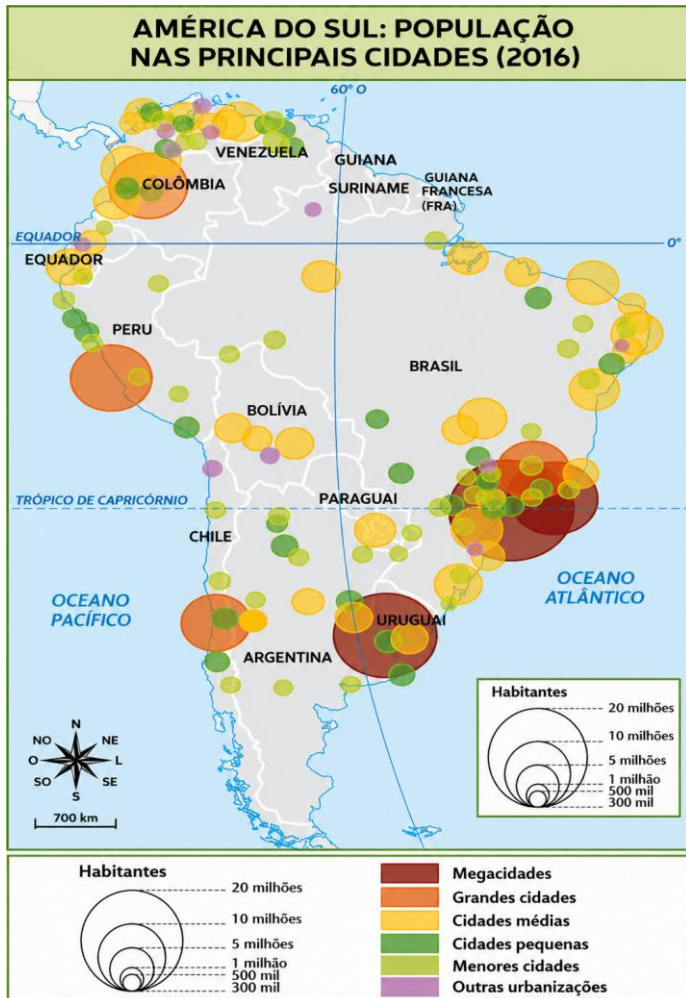
**F** As fábricas dessa área pagam salários elevados, o que tem gerado um grande desenvolvimento social em Tijuana, atraindo migrações de todo o México e até mesmo dos EUA.

*Comentário: O principal fator produtivo locacional dessa região a mão de obra desqualificada com baixos salários.*

**V** Cerca de 70% das exportações de produtos manufaturados do México são provenientes das maquiladoras.

11) A urbanização, fenômeno relativamente recente na América Latina, tem se intensificado nos últimos anos. A maior parte dos países sul-americanos apresenta taxas de urbanização superiores a 60%, com exceção do Paraguai e da Guiana. Em muitos países sul-americanos, observa-se um fenômeno de grande concentração populacional nas áreas metropolitanas de suas principais cidades.

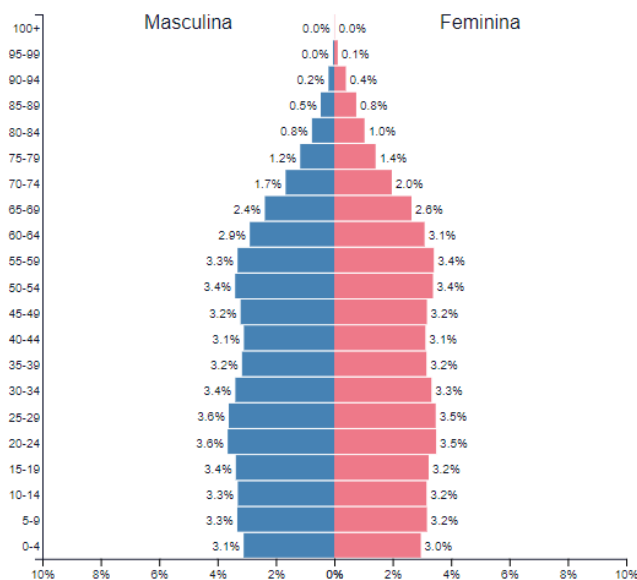
Sobre o processo de urbanização na América Latina, explique como ocorreu o processo de Urbanização nessa região e explique duas consequências negativas desse processo:



Com a intensificação do Êxodo Rural a urbanização da América Latina ocorreu de forma desordenada, sem planejamento dos seus governantes. ✓ O crescimento das atividades urbanas, gerou postos de trabalho em menor proporção que o aumento da população nas cidades. ✓ Outro fator seria a falta de investimentos dos Estados em infraestrutura e serviços básicos a população. ✓ Desse modo, apresentam-se, de um lado, áreas dotadas de ampla infraestrutura e do outro bairros mais carentes. ✓

12) Analise a pirâmide etária abaixo:

Estados Unidos  
2016



A respeito da população dos EUA, podemos afirmar que:

- a) *As taxas de natalidade são baixas e não demonstram recomposição populacional a longo prazo, uma vez que ela está em torno de 1,8 filhos por mulher.*
- b) Embora a população esteja reduzindo nesse país, os imigrantes pouco contribuem para minimização desse problema, uma vez que trata-se de mão de obra pouco qualificada.
- c) As taxas de expectativa de vida são baixas, o que evidencia a falta de assistência do governo em relação a saúde da população idosa.
- d) A população economicamente ativa corresponde à população de jovens e adultos. Nos EUA essas faixas etárias tendem a reduzir à médio e longo prazo.

13) Desde meados do século XX, os Estados Unidos da América se tornaram a potência-líder do capitalismo internacional, construindo um poder político e econômico que projetou o país na busca da hegemonia mundial. A expansão do modelo norte-americano tem contado com uma série de fatores que lhe garantiram sucesso, em um processo bastante complexo, produzindo problemáticas que não cessam de criar desdobramentos. A esse respeito desse assunto, marque F para as alternativas Falsas e V para as Verdadeiras:

(V) A hegemonia americana se justifica pelo seu desempenho nas duas grandes guerras mundiais e, em seguida, durante a Guerra Fria. Durante as grandes batalhas, os EUA não sofreram grandes consequências em seu território e tampouco ataques a civis.

(V) Os atentados de 11 de setembro foram a única vez na história da era moderna que os Estados Unidos sofreram um ataque direto dentro de suas fronteiras.

(V) Os EUA constituem a maior potência militar do mundo, com os maiores investimentos no setor, cerca de 607 bilhões de dólares em gastos militares, o que corresponde a 41% dos investimentos em todo mundo.

*(F) Embora a economia dos EUA constitua uma das maiores economias do mundo, em função do seu elevado grau de industrialização, a China vem superando o seu PIB nos últimos anos.*